

**КАКОЙ АРХЕОЛОГИЧЕСКИЙ ПЕРИОД НА КАРТИНКЕ?
КАКИЕ ВАШИ ДОКАЗАТЕЛЬСТВА?**

Палеолит Мезолит Неолит Энеолит
Бронзовый век Ранний железный век (РЖВ) Средние века




**КАКОЙ АРХЕОЛОГИЧЕСКИЙ ПЕРИОД НА КАРТИНКЕ?
КАКИЕ ВАШИ ДОКАЗАТЕЛЬСТВА?**

Палеолит Мезолит Неолит Энеолит
Бронзовый век Ранний железный век (РЖВ) Средние века




**КАКОЙ АРХЕОЛОГИЧЕСКИЙ ПЕРИОД НА КАРТИНКЕ?
КАКИЕ ВАШИ ДОКАЗАТЕЛЬСТВА?**

Палеолит Мезолит Неолит Энеолит
Бронзовый век Ранний железный век (РЖВ) Средние века



**КАКОЙ АРХЕОЛОГИЧЕСКИЙ ПЕРИОД НА КАРТИНКЕ?
КАКИЕ ВАШИ ДОКАЗАТЕЛЬСТВА?**

Палеолит Мезолит Неолит Энеолит
Бронзовый век Ранний железный век (РЖВ) Средние века




**КАКОЙ АРХЕОЛОГИЧЕСКИЙ ПЕРИОД НА КАРТИНКЕ?
КАКИЕ ВАШИ ДОКАЗАТЕЛЬСТВА?**

Палеолит Мезолит Неолит Энеолит
Бронзовый век Ранний железный век (РЖВ) Средние века



**КАКОЙ АРХЕОЛОГИЧЕСКИЙ ПЕРИОД НА КАРТИНКЕ?
КАКИЕ ВАШИ ДОКАЗАТЕЛЬСТВА?**

Палеолит Мезолит Неолит Энеолит
Бронзовый век Ранний железный век (РЖВ) Средние века



**КАКОЙ АРХЕОЛОГИЧЕСКИЙ ПЕРИОД НА КАРТИНКЕ?
КАКИЕ ВАШИ ДОКАЗАТЕЛЬСТВА?**


Палеолит Мезолит Неолит Энеолит
Бронзовый век Ранний железный век (РЖВ) Средние века



The Khirgiz (8th-9th C)
1: Khirgiz warrior
2: Kimak tribal warrior
3: Khirgiz tribesman

**КАКОЙ АРХЕОЛОГИЧЕСКИЙ ПЕРИОД НА КАРТИНКЕ?
КАКИЕ ВАШИ ДОКАЗАТЕЛЬСТВА?**

Палеолит Мезолит Неолит Энеолит
Бронзовый век Ранний железный век (РЖВ) Средние века



**КАКОЙ АРХЕОЛОГИЧЕСКИЙ ПЕРИОД НА КАРТИНКЕ?
КАКИЕ ВАШИ ДОКАЗАТЕЛЬСТВА?**

Палеолит Мезолит Неолит Энеолит
Бронзовый век Ранний железный век (РЖВ) Средние века

